

Petek, 15. 5. 2020

SLJ – Katere vrste je?

Najprej preveri, če si prejšnjo uro pravilno dopolnil povedi:

Na večerji sem spoznal **Bojanove** starše. / V čistilnico bo treba odnesti **stričev** plašč. /Izgubili smo **Jernejevo** nogometno žogo. / Matej je **Petrov** brat. /Kje sta **sosedova** otroka? /Ali si že prebral **Bevkovo** povest Pastirci?

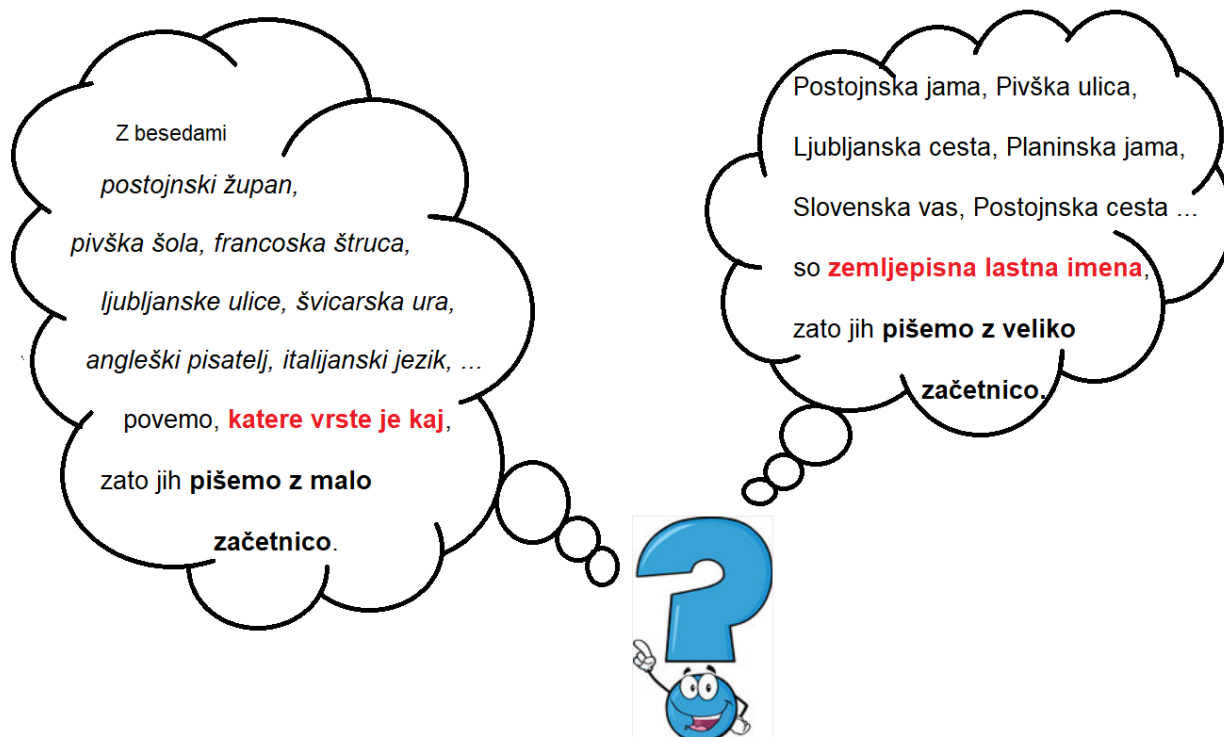
Nazadnje si se naučil, da besede, kot so Majino, Matejevo, Borutov ... pišemo z **veliko začetnico**, saj so **tvorjene iz osebnih lastnih imen**.

Danes pa boš spoznal, s katero začetnico pišemo besede, tvorjene iz **zemljepisnih lastnih imen**.

Opazuj spodnje primere:

- Slovenija – **s**lovenska zastava
- Nemčija – **n**emški ovčar
- Ljubljana – **l**jubljska megla
- Anglija – **a**ngleški jezik

Zdaj pa pozorno preberi besedilo v oblakih. Zakaj enkrat pišemo z veliko, drugič z malo začetnico?



Z besedami slovenska, nemški, ljubljanska, angleški ipd. povemo, **katere vrste je kaj**. Te besede so **tvorjene iz zemljepisnih lastnih imen**, katerim dodamo **-ski ali -ški**. Pišemo jih z **MALO ZAČETNICO**.

V DZ reši str. 94 in 95. (10. naloga se nadaljuje na str. 96.)

Na koncu si preglej rešene naloge:

<https://www.devletka.net/index.php?r=downloadMaterial&id=1035&file=1>

Kdor želi malo več o veliki začetnici, lahko reši naloge na spodnjih povezavah:

<https://www.thatquiz.org/sl/practicetest?1xagdqcy10jc9>

<https://www.thatquiz.org/sl/practicetest?1x51s8mz831d>

<https://www.thatquiz.org/sl/practicetest?1y5agqfz831e>

https://www.digipuzzle.net/minigames/classichangman/hangmanquiz_si_velika_zacetnica.htm

NIT – Nevretenčarji (živali brez kosti)

- Živali brez kosti (nevretenčarje) delimo v več skupin. Mi jih bomo spoznali 5:
 - PAJKOVCI
 - ŽUŽELKE
 - KOLOBARNIKI
 - POLŽI
 - STRIGE
- V učbeniku na str. 81 si še enkrat pozorno preberi značilnosti vseh teh petih skupin.
- V zvezek si preriši spodnjo tabelo in vanjo vpiši značilnosti za posamezno skupino živali.

Lažje ti bo, če boš zvezek obrnil leže, da boš lahko naredil širšo tabelo.

Živali brez kosti – nevretenčarji				
Nevretenčarji so živali, ki nimajo vretenčaste hrbtenice. Imajo mehko telo brez kosti. Nekatere živali imajo ogrodje - trdo lupino, hišico, iglice...				
PAJKOVCI	KOLOBARNIKI	POLŽI	STRIGE	ŽUŽELKE

MAT – Pisno množimo z večkratniki števila 10

Tu so rešitve včerajšnje naloge. Preveri, če si prav rešil.

Izračunaj zmnožke.

$$\begin{array}{r} 13 \cdot 20 \\ \hline 260 \end{array}$$

$$\begin{array}{r} 64 \cdot 90 \\ \hline 5760 \end{array}$$

$$\begin{array}{r} 207 \cdot 30 \\ \hline 6210 \end{array}$$

$$\begin{array}{r} 111 \cdot 70 \\ \hline 7770 \end{array}$$

$$\begin{array}{r} 99 \cdot 80 \\ \hline 7920 \end{array}$$

$$\begin{array}{r} 15 \cdot 80 \\ \hline 1200 \end{array}$$

$$\begin{array}{r} 27 \cdot 50 \\ \hline 1350 \end{array}$$

$$\begin{array}{r} 60 \cdot 60 \\ \hline 3600 \end{array}$$

$$\begin{array}{r} 570 \cdot 10 \\ \hline 5700 \end{array}$$

$$\begin{array}{r} 77 \cdot 40 \\ \hline 3080 \end{array}$$

$$\begin{array}{r} 9 \cdot 40 \\ \hline 360 \end{array}$$

$$\begin{array}{r} 333 \cdot 30 \\ \hline 9990 \end{array}$$

- Danes boš reševal matematične probleme - naloge iz DZ, str. 47. Besedila ni treba prepisovati. Najprej napiši številko naloge, ki jo rešuješ, lahko si izpišeš podatke, narediš načrt reševanja, morajo pa biti zapisani vsi računi, s katerimi prideš do rešitve in odgovori.
- 11. naloga je označena kot težja, a nič za to, poskušaj priti do rešitve, vem da zmoreš.



8. a) Koliko staneta dve vstopnici za odrasle?
b) Je 40 evrov dovolj za pet otroških vstopnic?
c) Ali stane vstopnica za odrasle več kot dve vstopnici za otroke?
č) Koliko plača za vstopnice 40 četrtošolcev?
d) Ali drži: deset vstopnic za otroke stane več kot pet vstopnic za odrasle?
e) Koliko bi plačala tvoja družina za vstopnice?

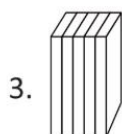
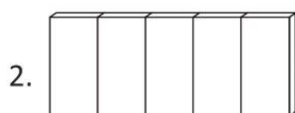
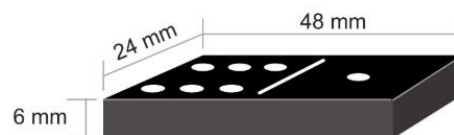


10.

Kaj je dražje, 25 nahrbtnikov po 100 evrov ali 20 nahrbtnikov po 125 evrov?

Odgovor: _____

- 11.** Sofija ima 50 domin. Vse je postavila v vrsto na tri različne načine.
Kako dolge vrste so nastale?
Dolžine izrazi še v centimetrih.



1. način: _____ mm

2. način: _____ mm

3. način: _____ mm

_____ cm

_____ cm

_____ cm



Oglej si izračunane dolžine. Kaj lahko poveš o njih?

GUM – Preverjanje znanja (kviz)

Reši kviz na spodnji povezavi:

<https://forms.gle/QepCcWYDFCTdm5B7>

Na koncu obvezno klikni POŠLJI ali SUBMIT, da bom tudi jaz videla tvoje odgovore. S klikom na OGLED OCENE ali VIEW SCORE si lahko pogledaš svoj rezultat.

Naloga je **obvezna**. Vprašanja, ki ti ne bodo šla najbolje, si v zvezku še enkrat dobro preberi in se snov nauči, ker bomo to tudi ocenjevali. Vse o načinu ocenjevanja izveš pravočasno. Do takrat pa imaš še dovolj časa, da snov dobro utrdiš.

Tu so še rešitve ponavljanja pri **DRU**. Preglej in popravi.

REŠITVE

- a) Pri Zagorju.
- b) Ponor.
- c) Izvir.

- č) Reka ponikalnica.

- d) Presihajoče jezero.
- e) Grič, hrib, gora.
- f) Vznožje, pobočje, vrh.
- g) Nanos, Hrušica, Javorniki, Slavinski Ravnik, Tabor, Snežnik.
- h) Iz apnenca.
- i) Apnenec.
- j) Prepustna.
- k) Pivka.
- l) Stalaktit.
- m) Stalagmit.
- n) Steber.
- o) Luka Čeč.
- p) Ponor. Spodnji krogec.

Postojna leži v **JZ** delu Slovenije. Leži na **desnem** bregu reke Pivke.

Naša domača pokrajina je svet ob reki **Pivki** in **Planinsko** polje.

Reka Pivka teče od Zagorja do **Prestranka** po prepustnih kraških tleh, od tam naprej pa do **Postojnske** jame pa po neprepustnih.

V bližini reke Pivke je veliko **presihajočih** jezer (Palško, Petelinjsko, Parsko ...).

Kapniki rastejo zelo **počasi**. Njihova rast je odvisna od **količine vode** in **količine apnenca** v njej.