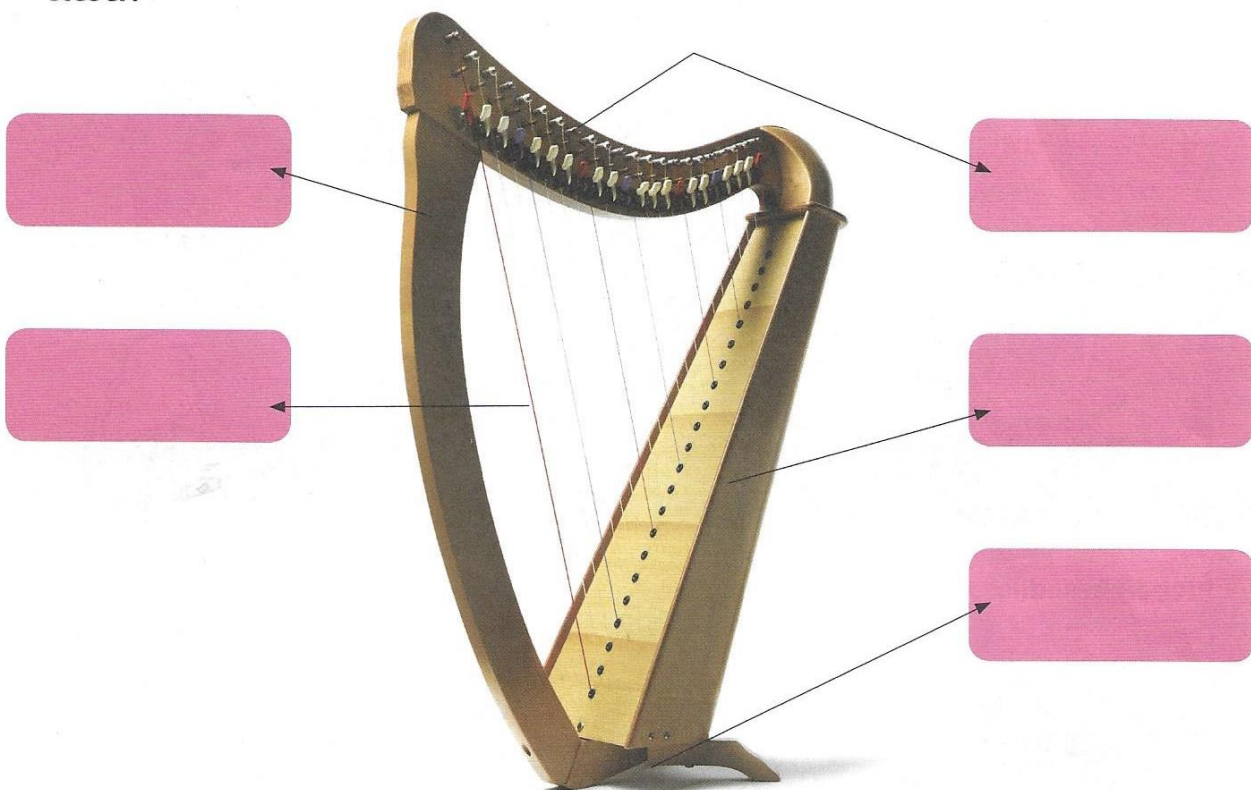


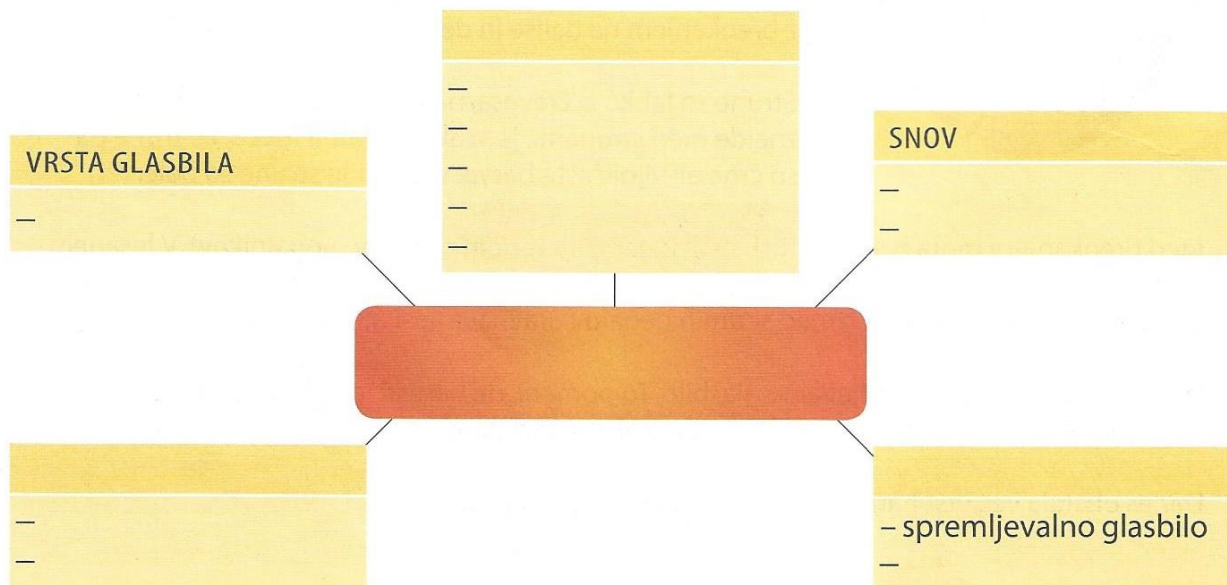
2 Poimenuj osnovne dele harfe. Pomagaj si z besedami: vrat, strune, resonančni trup, pedali, steber.



3 Kakšne oblike je trup harfe? _____

Zakaj spada harfa med brenkala? _____

4 Kaj iz besedila izveš o harfi? Dopolni naslednji miselni vzorec tako, da vpišeš manjkajoče ključne besede, pod njih pa bistvene podatke.



Predmet po navadi **opišeš** tako, da poveš, v katero skupino ga uvrščaš, iz katerih delov sestoji, iz katere snovi je narejen, čemu je namenjen in katere vrste poznaš.



- 5 **Koliko strun ima harfa?** _____
Katerih barv so strune? _____
Čemu ima harfa strune različnih barv? _____

Koliko pedalov ima harfa? _____
Kaj je nogalnik? _____

6 **Ali so naslednje trditve o harfi pravilne? Obkroži DA ali NE.**

Harfist igra na harfo samo z eno roko.	DA	NE
Harfist brenka na pedale.	DA	NE
Pedali so povezani s koluti v vratu harfe.	DA	NE
Harfa ima eno C-struno.	DA	NE
Harfa ima več F-strun.	DA	NE
Največ strun v harfi je belih.	DA	NE

7 **Poveži besedo v levem stolpcu z razlago pomena na desni strani.**

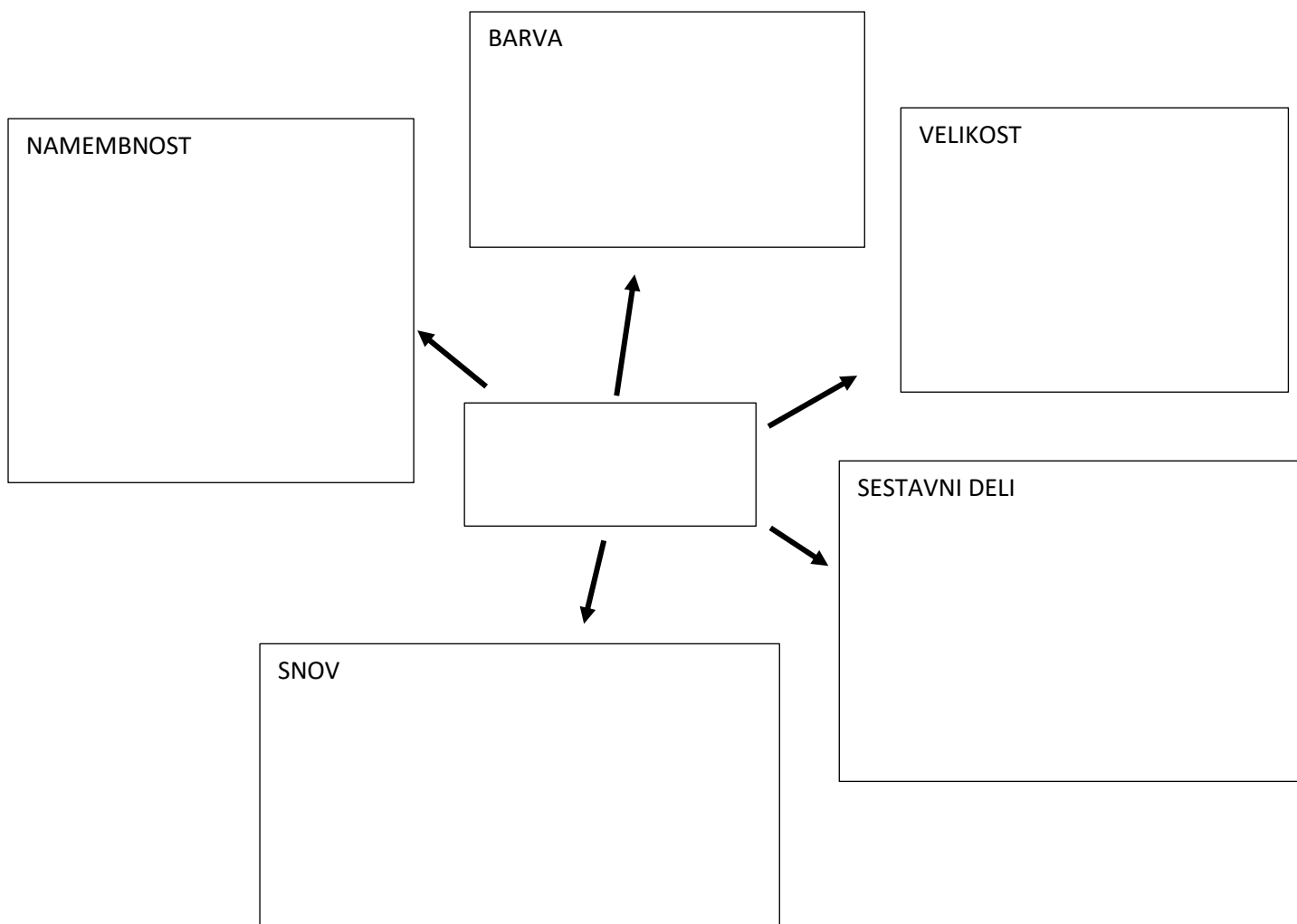
vzvod	ploščat okrogel predmet
nihanje	spreminjanje, menjavanje
kolut	priprava za premikanje

8 **Obkroži črko pred ustrezno razlago besede oz. besedne zveze.**

resonančni trup	a) največji del nekaterih vozil
	b) trup pri brenkalih, ki ojačuje zvok
	c) osrednji del človeškega ali živalskega telesa

brenkati	a) igrati na godalo
	b) igrati na pihalni instrument
	c) s trzljaji igrati na glasbilo s strunami

- 9 Izberi en predmet v tvojem domu in ga opiši. Najprej izdelaj miselni vzorec, nato iz ključnih besed tvori opis.



POMNI

Predmet po navadi opisujemo tako, da povemo čemu ga uporabljamo, opišemo njegovo velikost, koliko delov ga sestavlja, kakšne je barve in iz katere snovi je izdelan.

