

TOREK, 24. 11. 2020

SLOVENŠČINA

2. URA: GLAS - ČRKA E, DZ/80,81,82

Ura bo zaradi vsebine, kjer je potrebna pravilna izgovorjava, potekala preko video srečanja, ob 10.15.

MATEMATIKA

2. URA: UTRJEVANJE – priprava na pisno ocenjevanje znanja


- Natisni učni list (PRILOGA 1) ali rešuj naloge v zvezek.
- Samostojno reši naloge.
- Na video srečanju poročaj, če ti je katera izmed nalog povzročala težave.

Reši besedilne naloge.

a) Jaka je zbiral sličice. Mama mu je kupila 7 paketkov sličic. V vsakem paketku je bilo 5 sličic. Koliko sličic je Jaka dobil?

Odgovor: _____

b) Zala je na tržnici kupila kilogram hrušk, kilogram jabolk in kilogram jagod. Koliko je plačala za vse skupaj? Oglej si cenik. Cene so za kilogram sadja. Za koliko je kilogram hrušk dražji od kilograma jabolk?



Odgovor: _____

Odgovor: _____

c) Seštevanca sta 37 in 48. Kolikšna je njuna vsota?

Odgovor: _____

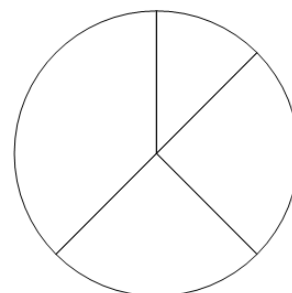
č) Količnik je 8, deljenec je 56. Kateri člen manjka? Koliko je njegova vrednost?

Odgovor: _____

Odgovor: _____

d) Glede na podatke z ustreznimi barvami pobarvaj tortni prikaz.

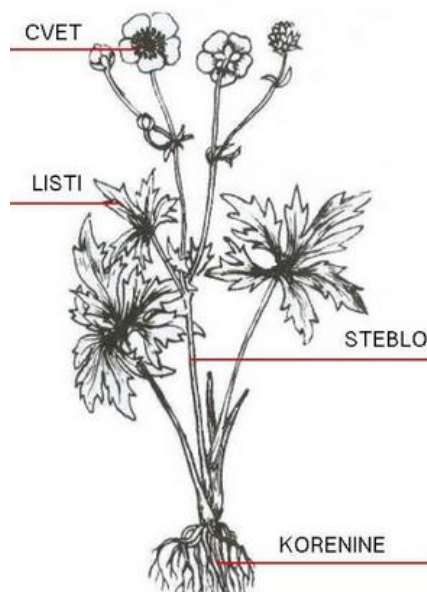
rdeča	modra	rumena	zelena
2	4	4	6



NARAVOSLOVJE IN TEHNIKA

1. URA: RASTLINSKO KRALJESTVO

- Oglej si posnetek na spodnji povezavi: <https://youtu.be/-BymrJldM-s>
- Ponovil si, kako so zgrajene kopenske rastline (korenine, steblo, listi, cvetovi, plodovi)
- V zvezek napiši naslov **Zgradba kopenskih rastlin**, preriši risbo in prepisi besedilo.



KORENINE: Rastlina je s koreninami pritrjena v zemlji. Iz nje črpa vodo in v njej raztopljene snovi.

STEBLO: Voda gre iz korenin po steblu v liste. Steblo drži rastlino pokonci.

LISTI: Na steblu so listi. V listih rastline izdelujejo hrano za rast. Ta iz njih potuje po rastlini. Voda iz listov tudi izhlapeva.

CVET: Na vrhu stebela je cvet. Je barvni del rastline, iz njih nastanejo plodovi in semena.

PLOD: V plodu so semena. Veliko rastlin ima užiten plod.

SEMENA: Iz semena se razvije nova rastlina.

