

2. RAZRED - PETEK, 13. 11. 2020

SLOVENŠČINA

- NA STRIČEVI KMETIJI

DZ-SLJ, STR. 45

NA STRIČEVI KMETIJI

MARKO ŽIVI V MESTU. NEKAJ DNI JE PREŽIVEL NA VASI. SPOZNAVAL JE DELO IN ŽIVLJENJE NA STRIČEVI KMETIJI. STRIC MU JE POKAZAL ORODJE IN STROJE, KI JIH UPORABLJAJO PRI DELU NA KMETIJI.


KE ŽIVI MARKO? KAJ JE SPOZNAVAL NA VASI? KAJ MU JE POKAZAL STRIC?



ŽIVI BEZDOLGA, POKAZAL JI JE...
KAKO ŽIVI NA VASI?

PO ZAJTRKU STA ŠLA TETA IN MARKO NA POLJE. NA NJI JE RASLA REPJA. MARKO JE TETI POMOČAL PLETI REPO. ZLAGALA STA JO NA KUP. STRIC BO REPO S TRAKTORJEM ODPELJAL DOMOV. PRAZNO NUVO BO PREORAL S PLOGOM.

NAVARNI STRIC JE TETI POKAZAL, KAKO RABITI VEČI NOSTEV NA POLJU.		
ZAJTRAJ STA ŠLA TETA IN MARKO NA POLJE.	DA	NE
PULLA STA KORBENE.	DA	NE
REPO STA ZLAGALA NA KUP.	DA	NE
STRIC BO PRAZNO NUVO PREORAL.	DA	NE
STRIC BO REPO S SAMOKOLJKO ODPELJAL DOMOV.	DA	NE

NAJPREJ PREBERI ZGORNJI ODLOMEK.

ŠE ENKRAT GA PREBERI. SEDAJ PA USTNO ODGOVORI NA VPRAŠANJA POD ODLOMKOM. 

IZBERI 1 BESEDILO: ☆ (STR. 45)  (STR. 46 ALI 47)  (STR. 48)

PREBERI IZBRANO BESEDILO IN POD BESEDILOM REŠI NALOGE.

 DODATNA NALOGA: BERI ŠE OSTALA BESEDILA.

MATEMATIKA

- GEOMETRIJSKA TELESA


NAJPREJ SI OGLEJ POSNETEK NA SPODNJI POVEZAVI IN PONOVI GEOMETRIJSKA TELESA:

<https://www.youtube.com/watch?v=TcFGqNzo6hs>

DZ-MAT, STR 77 IN 78/1. NALOGA

TELESA


OPAZI EN PREDMET IN GA POVEŽI S PRAVILNO OBLIKO.



OPAZI PREDMETI V OBLIKO:

- KATERI PREDMETI IMAJO OBLIKO KOCKE?
- KATERI PREDMETI IMAJO OBLIKO KROGLE?
- KATERI PREDMETI IMAJO OBLIKO STOLČKAT?
- KATERI PREDMETI IMAJO OBLIKO VALJAT?
- KATERI PREDMETI IMAJO OBLIKO KVADRAT?

1. NARIŠI NEKA TELESA. PREDMETI POVEŽI S USTREZNO OBLIKO.



OPAZI EN PREDMET V OBLIKO:

$6+5=$	$14-9=$	$7+9=$
$9+ = 14$	$15- = 8$	$16- = 9$
$+ 7 = 11$	$- 4 =$	$+ 4 = 12$
$5+ = 13$	$- 7 = 9$	$- 4 = 8$
$4+8=$	$13-6=$	$6+ = 15$
$- 9 = 13$	$- 8 = 4$	$18-9=$



DODATNE NALOGE LAHKO REŠUJEŠ NA SPODNJI POVEZAVI:

https://www.uciteljska.net/kvizi/HotPot/GEOM_T_1R/SKUPNO.htm

SPOZNAVANJE OKOLJA

- VRT IN POLJE



OGLEJ SI PPT PREDSTAVITEV. NAŠEL JO BOŠ NA SPLETNI STRANI ŠOLE.

DZ-SPO, STR. 26

VRT IN POLJE

POZNAJO CVETUČNE, ZELENJAVNE IN ZELIŠČNE VRTOVE. NA VRTOVIH IN POLJIH OD POMLADI DO JESENI PRIDELEKIMO ZELENJAVO. ZELENJAVNA IMA VELEKO VITAMINOV IN MINERALOV. ZATO JE POMEMBNA ZA NAŠE ZDRAVJE. JESENI POSPRAVIMO VEČINO PRIDELKOV.

LAHKO JIMO RAZLIČNE DELE RASTLIN

LISTI: SOLATE, PLOD: PARADIZKA, KORENINA: KORBENJA, SEME: GRAHA

LUDEJE ZA OZMKNICO PRIPRAVIMO SADIJE IN ZELENJAVO. IZ SADIJA SKUHAMO SOKOVE, KOMPOTE IN MARMELADE. ZELENJAVO LAHKO VLOZIMO ALI ZAMRZNEMO.

KAKI LAHKO PRIPRAVIMO SEMENNEGA SADIJA

ODGOVOR:


1. KATERA ZELENJAVA SE RASTE NA VRTU?
2. KAKO ZA OZMKNICO PRIPRAVIMO ZELJE IN REPO?
3. KAM SHRANIMO KROMPIR?

PREBERI SI ZAPIS O VRTU IN POLJU.

LAHKO PREBEREŠ SAM ALI PROSIŠ ZA POMOČ STARŠE. 😊

➔ **USTNO ODGOVORI NA SPODNJA VPRAŠANJA.**

V **ZVEZEK ZA SPO** NAPIŠI NASLOV **VRT**. STRAN RAZDELI NA 4 ENAKA POLJA OZIROMA GREDICE:



V PRVO GREDICO NARIŠI VRTNINO, PRI KATERI JEMO **LISTE**.

V DRUGO GREDICO NARIŠI VRTNINO, PRI KATERI JEMO **PLODOVE**.

V TRETJO GREDICO NARIŠI VRTNINO, PRI KATERI JEMO **KORENINE**.

V ČETRTO NARIŠI VRTNINO, PRI KATERI JEMO **SEMENA**.

PRI RISANJU SE POTRUDI. RIŠI IN BARVAJ Z BARVICAMI. BODI NATANČEN.

ŠPORT

- PANTOMIMA: OPONAŠANJE ŽIVALI, PREDMETOV, OSEB

OGLEJ SI PPT, KI SEM GA PRILOŽILA NA SPLETNO STRAN IN SLEDI NAVODILOM.



KO KONČAŠ, SI LAHKO IZMISLIŠ ŠE SVOJE PRIMERE.