

## DELO DOMA 2. teden

17. 11. 2020 – torek

**SLO:** BESEDILO POTUJE OD UST DO UST

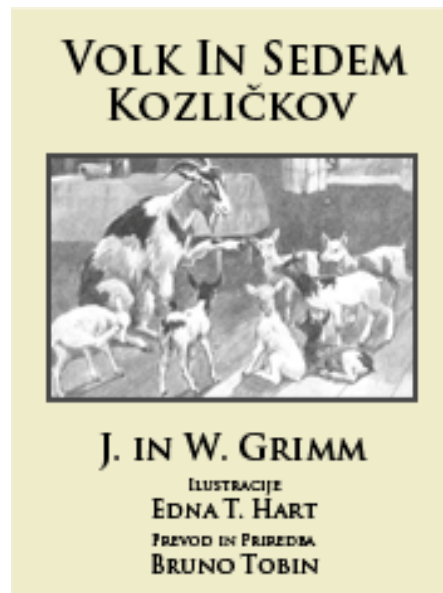

**OBNOVA:** VOLK IN SEDEM KOZLIČKOV (pravljica J. in W. GRIMM)

Najprej poslušaj pravljico:

<https://www.youtube.com/watch?v=YFZrRYKBeno&list=RDYFZrRYKBeno>

Pravljico lahko tudi prebereš na povezavi:

<http://www.epravljice.si/volk-in-sedem-kozlickov-stranz.html>



Sedaj pa odpri delovni zvezek Gradim slovenski jezik 5 in reši:

**1. naloga:** Oglej si sličice in jih pravilno razvrsti – v okenca vpiši številke od 1 do 7.

Ustno odgovori na vprašanja pod sličicami.

**2. naloga:** Ali bi ob sličicah, v vrstnem redu kot so narisane, lahko takoj začel pripovedovati pravljico? Si odgovoril NE? Prav imaš. Sličice si moral najprej pravilno razvrstiti.

V mislih tvori pravljico in se pripravi na govorni nastop. Lahko se dogovoriš s sošolcem in si za vajo izmenjata pripoved.

## **MAT:** SEŠTEVANJE DALJIC

DELOVNI ZVEZEK RADOVEDNIH 5, STRAN 76 IN 77.

Učna ura bo potekala preko videokonference.

Daljice lahko GRAFIČNO SEŠTEJEMO.

Preberi besedilo na rumenem polju in natančno si oglej postopek načrtovanja daljic.

V PRILOGI IMAŠ ppt: SEŠTEVANJE DALJIC.

PTT predstavitve so oglej v **DIAPROJEKCIJI** (v zgornjem zavihku ekrana na rjavem polju **KLIKNI** na **Diaprojekcija** in v novi vrsti izberi možnost **Od začetka**).

Reši naloge: stran 76/ 1. naloga,  
stran 77/2. in 3. naloga

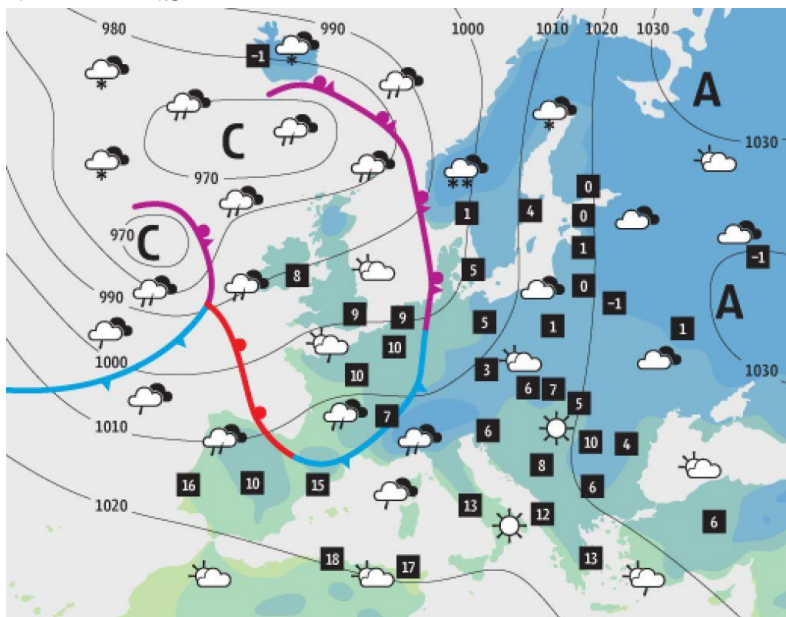
## **NIT:** VREMENSKA KARTA, VREME in OBLAKI

Učna snov v učbeniku na strani 21- vremenska karta,  
na strani 24 in 25 – Oblačnost

Preberi besedilo v učbeniku.

Na strani 21 si **NATANČNO** oglej **VREMENSKO KARTO** in pomen simbolov na njej.

### VREMENSKA KARTA



Sličice imaju dogovorjene pomene



**Vreme** UREDI ▾ ×

ČET	PET	SOB	NED	PON
10 ~ 25	11 ~ 26	12 ~ 27	13 ~ 26	13 ~ 25

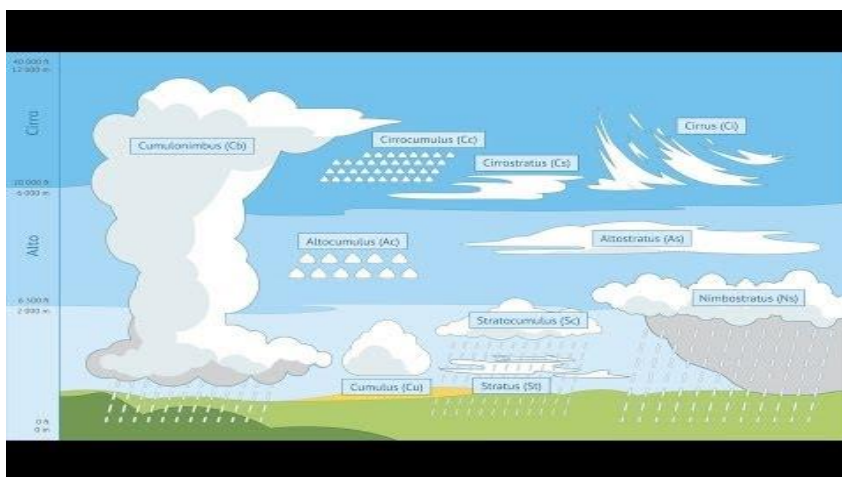
---

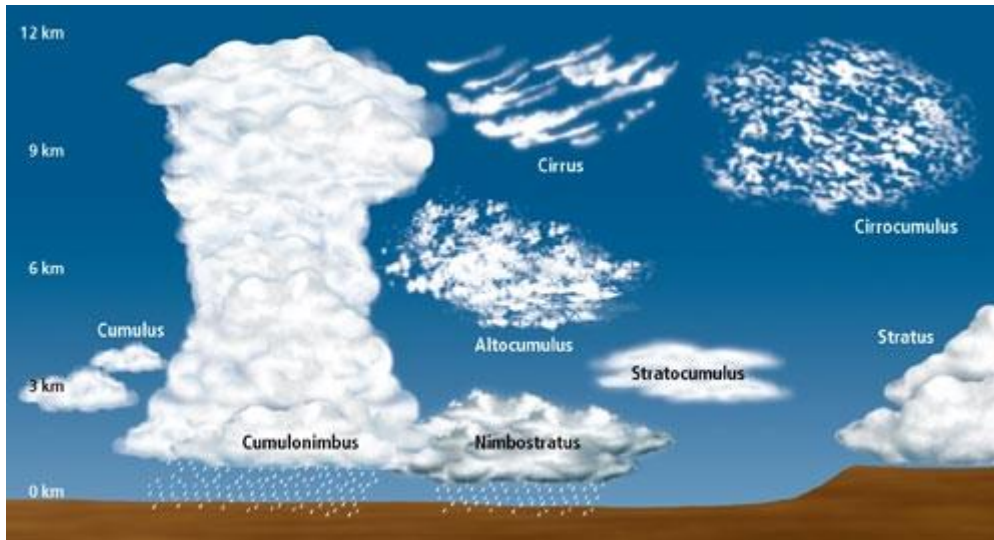
**Vreme** →

Čet	Pet	Sob	Ned	Pon
19.05.	20.05.	21.05.	22.05.	23.05.
10°   22°	10°   22°	11°   23°	12°   22°	12°   22°

Vir: Agencija RS za okolje

OBLAČNOST					PADAVINE		
do 10 %	10-30 %	30-50 %	50-80 %	nad 80 %	rahle	zmerne	močne





## VRSTE OBLAKOV

Na sliki lahko vidiš, kateri oblaki so dežni oblaki.

## ZAPIS V ZVEZEK:

Naslov: **VREMENSKA KARTA, VREME in OBLAKI**

Vremenska karta je zemljevid, na katerem so s posebnimi simboli prikazani podatki o vremenu.

**C (ciklon):** območje slabega vremena,

**A (anticiklon):** območje lepega vremena,

**FRONTA:** območje, kjer se stikajo hladne in tople zračne mase,

**IZOBARE:** črte, ki povezujejo kraje z enakim zračnim tlakom.

Kako hitro piha veter, lahko ugotovimo ob opazovanju oblakov.

Oblaki nastanejo iz vodnih hlapov v zraku, ko se ti zgostijo v kapljice in v kristalčke. Najpogosteje se to zgodi ob dvigovanju segretega zraka.

Ločimo različne stopnje oblačnosti.

### STOPNJE OBLAČNOSTI



