

## 2. RAZRED - ČETRTEK, 10. 12. 2020




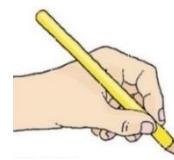
### SLOVENŠČINA

#### - MALA TISKANA ČRKA **g**

##### PRAVILA PISANJA:

1. PAZI NA PRAVILNO DRŽO SVINČNIKA V ROKI IN PRAVILNO DRŽO TELESA.
2. ČRKE PIŠI NATANČNO IN PRAVILNO - PO DOGOVORJENI SMERI, OBLIKI IN VELIKOSTI
3. NE POZABI NA PRESLEDEK MED BESEDAMI, NA VELIKO ZAČETNICO IN PIKO NA KONCU POVEDI.
4. Z VELIKO ZAČETNICO PIŠEMO IMENA IN ZAČETEK POVEDI.

UPOŠTEVAJ  
PRAVILA!



##### PRIKAZ PISANJA ČRKE **g** SI OGLEJ NA:

[https://nasaulica.si/datoteke/Prikaz\\_pisanja\\_crk/story\\_html5.html](https://nasaulica.si/datoteke/Prikaz_pisanja_crk/story_html5.html)



ČRKA **g** SEGA **POD SPODNJO VRSTICO.**

V ZVEZEK **PIŠEM ČRKE** NAPIŠI Z RDEČO BARVICO VELIKO IN MALO TISKANO ČRKO **G g**.  
NATO VADI ZAPIS MALE TISKANE ČRKE **g** S SVINČNIKOM - DVE VRSTICI.  
PREBERI SPODNJE BESEDE IN POVEDI TER JIH PREPIŠI V ZVEZEK.

*Starši, če je za katerega izmed otrok preveč, naj prepiše le nekaj besed in eno poved.*

rog goba krog megla jagoda

nogomet **G**aja **G**rega

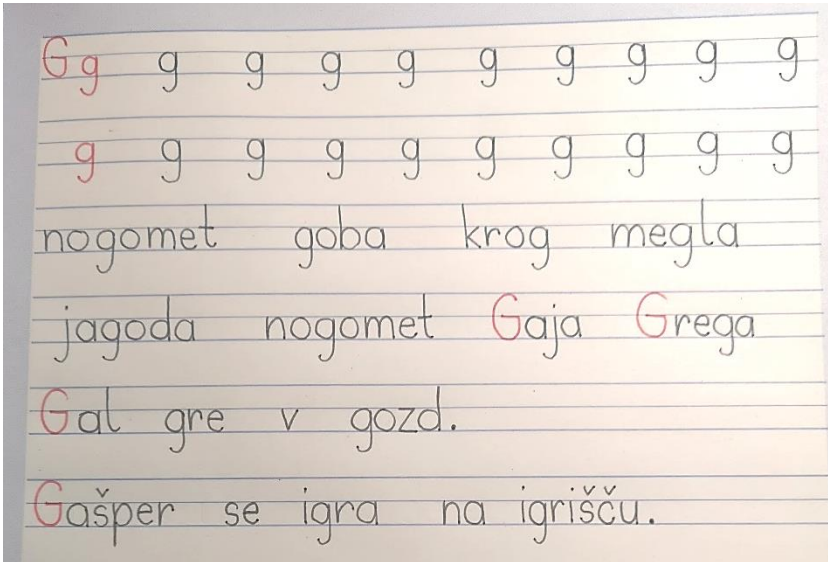
**G**al gre v gozd.



# Gašper se igra na igrišču.

TUDI TI ZAPIŠI VSE VELIKE ZAČETNICE Z RDEČO BARVO.

ZAPIS V ZVEZKU NAJ IZGLEDA TAKO:



ODPRI DELOVNI ZVEZEK ZA OPISMENJEVANJE, STRAN 83 IN REŠI NALOGE.

g

BERI IN PREPIŠI V ZVEZEK.

Gregor se igra na igrišču.  
Najraje se guga na gugalnici.

✓ OZNAČI USTREZNO POVEDI OB SLIKI.

-   Markov modri zajček je korenje.
- Markov rjavi zajček je korenje.
- Markov beli zajček je korenje.
- Na krožniku sta dve hruški in tri slive.
- Na krožniku sta dve rumeni hruški in tri slive.
- Na krožniku sta dve rumeni hruški in tri rdeča jabolka.
-   Neža spušča zmaja trikotne oblike.
- Neža spušča zmaja štirikotne oblike.
- Neža spušča zmaja okrogle oblike.



**DODATNA NALOGA: V ZVEZEK PREPIŠI POVEDI, KI SI JIH OZNAČIL S KLJUKICO.**

# MATEMATIKA

## NEZNANI ČLEN - IŠČEM DRUGI SEŠTEVANEC

REŠI NALOGE V DZ – MAT, STR. 50, 51

1. DOKRŠI IN ODRAČUNAJ.

$7 + \_ = 13$  ●●●●●○○○○○  
 $8 + \_ = 14$  ●●●●●●●●●●  
 $6 + \_ = 15$  ●●●●●○○○○○

2. POŠČI DRUGI SEŠTEVANEC.

$6 + \_ = 15$      $8 + \_ = 13$      $10 + \_ = 20$   
 $5 + \_ = 12$      $2 + \_ = 12$      $1 + \_ = 11$   
 $4 + \_ = 13$      $6 + \_ = 14$      $3 + \_ = 11$   
 $3 + \_ = 12$      $8 + \_ = 17$      $5 + \_ = 14$

3. REŽATE POKREZI POVRSTI.

$6 + \_ = 14$   
 $2 + \_ = 11$   
 $7 + \_ = 13$   
 $13 + \_ = 13$   
 $7 + \_ = 12$   
 $2 + \_ = 13$   
 $4 + \_ = 16$   
 $10 + \_ = 20$   
 $9 + \_ = 12$

4. REŠI.

15  $+5$  20    5  $+ \_ = 12$     8  
5  $+ \_ = 17$     8  $+ \_ = 16$     0  
8  $+ \_ = 11$     9  $+ \_ = 13$     7  
7  $+ \_ = 10$     6  $+ \_ = 6$     9  
9  $+ \_ = 14$     7  $+ \_ = 16$     4

5. REZULTAT POKARVAJ Z USTREZNO BARVO.

6. V UČELNICI JE BILO 8 UČENCEV, KO JIH JE VSTOPILO SE NEKAJ, JE BILO V UČELNICI 17 UČENCEV. KOLIKO UČENCEV JE VSTOPILO?

ODGOVOR: \_\_\_\_\_

7. JANA JE NA POLICO ZLOŽILA 7 HRUŠK, KO JE JURE DODAL SE NEKAJ JABOLK, JE BILO NA POLICI 11 SADEŽEV. KOLIKO JABOLK JE DODAL JURE?

ODGOVOR: \_\_\_\_\_

POMAGAŠ SI LAHKO Z RAČUNOM ODŠTEVANJA.

$7 + \_ = 13$   
 $13 - 7 = 6$

FOTOGRAFIRAJ OBE STRANI V DELOVNEM ZVEZKU IN MI FOTOGRAFIJO POŠLJI PO ELEKTRONSKI POŠTI.

## LIKOVNA UMETNOST

### KIPARJENJE – ŽIVALSKI KIP



NA SPLETNI STRANI POIŠČI PREDSTAVITEV IN SLEDI NAVODILOM.