

2. RAZRED - ČETRTEK, 14. 1. 2021

MATEMATIKA



RAČUNAM DO 20 - TRIJE SEŠTEVANCİ

SEŠTEVAMO LAHKO TUDI VEČ SEŠTEVANČEV. PRISLUHNI RAZLAGI NA POVEZAVI IN VIDEL BOŠ, DA NI TEŽKO. V POSNETKU SO TUDI NALOGE. NAREDI JIH! USTAVI POSNETEK IN REŠUJ V ZVEZEK.

<https://www.youtube.com/watch?v=DRco0bBwuss>

ZAPIS V ZVEZKU MATEMATIKE NAJ IZGLEDA TAKO:

RAČUNANJE S TREMI SEŠTEVANCİ

$$\begin{array}{c} 8 + 6 + 2 = 16 \\ \underbrace{\quad\quad}_{14} \end{array}$$
$$\begin{array}{c} 8 + 6 + 2 = 16 \\ \underbrace{\quad\quad}_{8} \end{array}$$
$$\begin{array}{c} 8 + 6 + 2 = 16 \\ \underbrace{\quad\quad}_{10} \end{array}$$

IZRAČUNAŠ
LAHKO NA
TRI NAČINE.



Starši, besedilne naloge o treh prašičkih iz posnetka naj rešijo otroci, ki to zmorejo.

Otrokom, ki obiskujejo dopolnilni pouk, ni potrebno narediti teh besedilnih nalog.

LILI IN BINE STA SI OGLEDALA SKODELICE NA POLICL VSAK NA SVOJ NAČIN STA NAPISALA RAČUN.

$3 + 2 + 4$

$3 + 2 + 4 = 5 + 4 = 9$ $3 + 2 + 4 = 3 + 6 = 9$

LILI JE VSOTI PRVIH DVEH SEŠTEVANČEV PRISTELA TRETJI SEŠTEVANEC.

BINE JE PRVEMU SEŠTEVANČU PRISTEL VSOTO DRUGEGA IN TRETJEGA SEŠTEVANCA.

2. KOLIKO JE PIŠKOTOV?

$7 + 4 + 3 =$ _____

PIŠKOTOV JE _____

3. SEŠTEJ:

$4 + 9 + 2 =$ _____	$4 + 5 + 6 =$ _____
$8 + 6 + 3 =$ _____	$3 + 11 + 4 =$ _____
$5 + 7 + 3 =$ _____	$9 + 1 + 9 =$ _____




REŠI ŠE NALOGE V DZ MATEMATIKA 2. DEL STRAN 6.

SLOVENŠČINA

BEREM, PIŠEM

V PETEK, 8. 1. 2021, SI IZBRAL ENO BESEDILO IN NAREDIL NALOGE.

DANES SI IZBERI **DRUGO BESEDILO IN NAREDI NALOGE ZA TO BESEDILO**. POIŠČI JIH NA SPLETNI STRANI ŠOLE.

ČE OBISKUJEŠ DOPOLNILNI POUK, IZBEREŠ PERO.	VSI OSTALI UČENCI IZBERETE ZVEZDICO.	ČE OBISKUJEŠ DODATNI POUK, IZBEREŠ UTEŽ.
		

LIKOVNA UMETNOST

GRAFIKA – ODTIS (SNEŽINKA)



NAVODILA ZA DELO NAJDEŠ V
PREDSTAVITVI NA SPLETNI STRANI.

