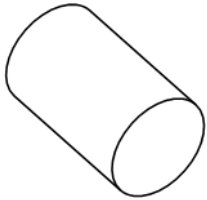


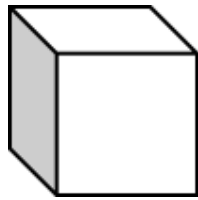
PETEK, 9. 4. 2021

MAT: TELESA (DZ / 99, 100)

Se še spomniš katera so geometrijska telesa? Že lani smo jih podrobno opisali, pa kljub temu ponovimo:




VALJ



KOCKA



STOŽEC



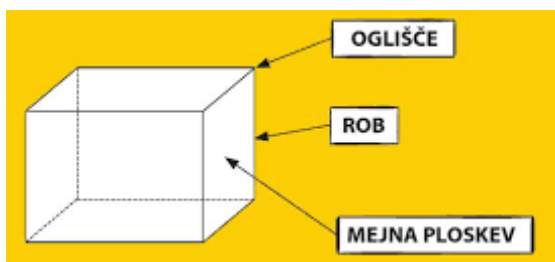
KVADER

Sedaj pa doma hitro poišči nekaj predmetov, ki te spominjajo na geometrijska telesa, bo šlo? (pomaranča, tetrapak od mleka, kocka iz igre Človek ne jezi se...)

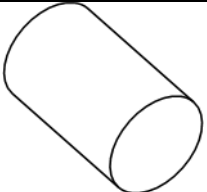
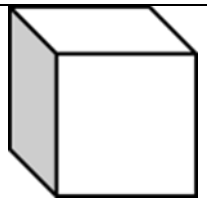


Dobro si jih oglej ter preštej:

- Koliko oglišč ima?
- Koliko mejnih ploskev ima?
- Koliko robov ima?
-

Poglej primer: Kaj je **rob**, kaj je **oglišče** in kaj je **mejna ploskev**:



V zvezek prilepi učni list in ga reši. Če pa nimaš tiskalnika, lahko samo narišeš in napišeš. Pri risanju prosi za pomoč starše.

| GEOMETRIJSKA TELESA | |
|--|---|
|  | _____ OGLIŠČ _____ MEJNIH PLOSKEV _____ ROBOV |
|  | _____ OGLIŠČ _____ MEJNIH PLOSKEV _____ ROBOV |
|  | _____ OGLIŠČ _____ MEJNIH PLOSKEV _____ ROBOV |
|  | _____ OGLIŠČ _____ MEJNIH PLOSKEV _____ ROBOV |

Sedaj pa si oglej naloge v delovnem zvezku na strani 99. Še enkrat preberi koliko robov, mejnih ploskev in oglišč imajo posamezna telesa. Preveri, če si tudi sam/a pravilno rešil/a na učnem listu.

Reši tudi 1. nalogo (natančno beri trditve).

Če imaš čas, pa se lahko poigraš še s čebelčki na strani 99.

SLJ: VARČUJEMO (DZ / 53)

Danes boš nadaljeval/a delo v DZ na strani 53. Samostojno večkrat preberi besedilo Varčuj z vodo in elektriko. Nato v črtan zvezek napiši in odgovori na vsa vprašanja. Odgovarjaj v celih povedih. Tudi 2. nalogo reši kar v ta zvezek.

SPO: POKRAJINE V SLOVENIJI

Na spletni strani si lahko ogledaš posnetek: Lepote Slovenije od gora in morja, ki prikazuje lepote in raznolikosti naših pokrajin.

<https://www.youtube.com/watch?v=1KZuim2ZdnQ&t=121s>

Kaj si videl/a v filmu? (različne pokrajine).

Vrste pokrajin ponovi ob PowerPoint predstavitvi: VRSTE POKRAJIN.

V zvezek za SPO napiši naslov in prepisi:

POKRAJINE V SLOVENIJI

Pokrajine so zelo raznolike: ravninske, gričevnate, hribovite, gorate in obmorske. Nekatere so pokrite z gozdom, druge s polji in naselji. Ljudje se prilagajamo okolju, v katerem živimo. Ljudje, ki živijo ob morju, se pogosto ukvarjajo z ribolovom in turizmom.

SDZ, str. 72

Preberi besedilo.

1. naloga

Ob fotografijah poimenuj vrsto pokrajin. (DZ / 72)

GUM: UMETNA PESEM

Na spletu poslušaj skladbo Aram Hačaturjan: Maškarada. Med poslušanjem zapri oči.

(https://www.youtube.com/watch?v=6eRJdjR_iPc).

Sedaj v zvezek napiši naslov MAŠKARADA in nariši, kaj si si predstavljal/a med poslušanjem.

Prisluhni še *pesmi z naslovom Krof. Pesem večkrat poslušaj in jo poskusi še sam/a zapeti.*

<https://www.lilibi.si/mestni-trg/glasbena-umetnost/pesmice>

Ob naslovu sta napisana ustvarjalca pesmi. Anja Štefan je **pesnica**, ker je napisala besedilo pesmi. Melodijo za pesem pa je napisal **skladatelj** Jani Golob. Ker sta ustvarjalca pesmi znana, rečemo, da je pesem Krof **umetna pesem**.

V DZ si na strani 30 oglej notni zapis pesmi in v njem pobarvaj pavze z zeleno barvo.

Reši še nalogo v okvirčku.