


1. RAZRED - TOREK, 20. 4. 2021



SPOZNAVANJE OKOLJA



Spoznavanje okolja bomo imeli preko video srečanja (Učiteljica Tina)

<https://arnes-si.zoom.us/j/96960730329?pwd=ZHRQUmRKM0Jvd1licitodi9PWHdwZz09>

Se vidimo na Zoomu ob 9.00!

Po srečanju natisni učna lista, ki ju najdeš v prilogi in ju reši. Če nimaš možnosti tiskanja, boš učna lista dobil v šoli.

SLOVENŠČINA



NA PLANINI

Odpri **oranžni delovni zvezek** na **strani 30 in 31**. Zelo pozorno si poglej sliko, ki prikazuje eno izmed planin. Na naslednji strani imaš pa kar nekaj nalog, ki jih moraš rešiti. Dobro si oglej vse piktograme in reši naloge.

NA PLANINI

OPAZI: SURE IN BEŠ NALOGE NE NALEŽEŠ STRANI

NA SLUŠI POŠČO PREDMETI IN GA POVRNATI PO NALOŽILU

PREDTAL ČESAR NE NA SLUŠI

--	--	--	--

PREŠTEI BEŠE IN PREDPETE NA SLUŠI V PREGLEDNECO MAPO! POŠMO JIH SI!

--	--	--	--	--	--

OBROZI PLANINCA, KI POUVALNO BRUNA Z ČEPACI!


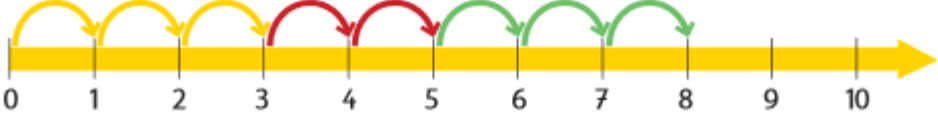

POPRAVEDALI KAJ SE DOGAJA NA PLANINI!

MATEMATIKA

RAČUNAM (trije seštevanci)


Danes boš računal malo drugačne račune. In sicer, boš sešteval kar s tremi seštevanci. Oglej si sliko in povej, kako bi napisal račune za vse sponke (rumene, rdeče in zelene).

TRIJE SEŠTEVANCI






$$3 + 2 + 3 = 8$$


Sedaj pa odpri modri delovni zvezek, 3. del in reši stran 8.

RAČUNAM

SEŠTEJ.
KOLIKO KOSOV PERILA SE SUŠI?

 $2 + 3 + 4 = \square$

SESTAVI RAČUN IN SEŠTEJ.

 $\square + \square + \square = \square$	 $\square + \square + \square = \square$
 $\square + \square + \square = \square$	 $\square + \square + \square = \square$

SEŠTEJ.


$5 + 0 + 3 = \square$	$1 + 6 + 1 = \square$
$6 + 2 + 2 = \square$	$2 + 3 + 2 = \square$
$4 + 3 + 1 = \square$	$7 + 2 + 0 = \square$

8

PRILOGA:

Izstriži sličice in jih prilepi na ustrezno mesto na učni list, ki je na naslednji strani.

Učni list **SKRBIM ZA ZDRAVJE** prilepi v zvezek **srnica**.



SKRBIM ZA ZDRAVJE

PREHRANA	GIBANJE	POČITEK	HIGIENA